

Всероссийская олимпиада школьников 2023-2024 учебный год
Школьный этап.

Всероссийская олимпиада школьников 2023-2024 учебный год
Школьный этап. География, 10-11 класс
Время выполнения 90 мин. Максимальное кол-во баллов – 79
Теоретический тур

№ задания	Правильный ответ	Кол-во баллов
1	Б	1
2	В	1
3	Г	1
4	532418	2
5	А	1
6	А4 Б5 В6 Г3 Д2	5
7	Ж	1
8	А	1
9	Лена	1
10	А8 Б3 В2 Г5	4
11	А) Медь Б) Алюминий В) Марганец Д) Никель	1
12	Протестантизм	1
13	АБД	3
14	Б	1
15	В, 58	1
16	Б	1
17	Г	1
18	187 млрд долл.	1
19	А	1
20	Б	1
Максимальное количество баллов		31

Практический тур

Задание №1.

Определите географический район по его характеристике

№	Вопрос	Ответы	Кол-во баллов
1.	Назовите географический район	Поволжье	2
2.	Какая река протекает по территории географического района	Волга	2
3.	Какие республики входят в состав географического района	Татарстан, Чувашия, Марий Эл, Мордовия	1
4.	Назовите основные/ведущие отрасли специализации	Нефтегазовая, газовая, химическая, машиностроение, электроэнергетика, металлургия, транспорт	2

	географического района	Производство строительных материалов	
5.	Назовите города-миллионеры географического района	Казань, Самара, Волгоград	1
Максимальное количество баллов			9

Задание №2.


Рассчитайте ресурсообеспеченность страны.





№	Страна	Кол-во баллов	Количество лет	Кол-во баллов
1.	Англия		211	
2.	Россия		87	
3.	Австралия		158	
4.	Китай		224	
5.	Бразилия		90	

Максимальное количество баллов - 10

Задание № 3.

Определите туристический объект, его название и страну, в которой он находится. Запишите название туристического объекта и страну его нахождения.

№	Туристический объект	Название туристического объекта	Кол-во баллов	Страна нахождения туристического объекта	Кол-во баллов
1.		Коллизей	1	Италия	1

2.		<p><u>Долина</u> <u>царей</u></p>		<p><u>Египет</u></p>	
3.		<p>Москва- Сити</p>		<p>Россия</p>	
4.		<p>Лувр</p>		<p>Франция</p>	
5.		<p>Тадж- Махал</p>		<p>Индия</p>	

Максимальное количество баллов – 10 баллов.

8 5

Задание №4.

1.

Цифра на карте	Буква название графика	Количество баллов
1	Г	
2	А	
3	В	
4	Б	
Максимальный балл		0

2. За каждую правильно заполненную ячейку по 1 баллу. Итого максимальный балл за задание – 12 баллов

Буква графика	Название населенного пункта	Название страны	Название климатического пояса
А	Куала-Лумпур	Малайзия	Тропический
Б	Москва	Россия	Умеренный
В	Триполи	Ливия	Тропический
Г	Сантьяго	Чили	Умеренный

6
Σ = 54